

Opgave 7 – Leefomgeving: De Noord/Zuidlijn

Bij deze opgave horen de bronnen 19 tot en met 21.

Gebruik bron 19.

De Noord/Zuidlijn heeft de bereikbaarheid van het noorden van Amsterdam ten opzichte van de rest van Amsterdam verbeterd.

2p **26** Geef hiervan twee oorzaken met behulp van de kaart in bron 19.

Stelling: de Noord/Zuidlijn heeft de woonomgeving voor de bewoners van het centrum van Amsterdam verbeterd.

2p **27** Geef

- een argument voor deze stelling;
- een argument tegen deze stelling.

Gebruik de bronnen 19 tot en met 21.

De Noord/Zuidlijn kan het proces van *gentrification* rond station Amsterdam-Noord versterken.

2p **28** Geef aan

- waarom de Noord/Zuidlijn het proces van *gentrification* rond station Amsterdam-Noord kan versterken;
- waarom het proces van *gentrification* voor de huidige bewoners rond Amsterdam-Noord ongunstig kan zijn.

Gebruik de bronnen 19 en 20.

Een van de stations aan de Noord/Zuidlijn kan zich ontwikkelen tot een van de grootste stations van Nederland.

3p **29** Geef

- de naam van dit station;
- twee redenen waarom dit station zich kan ontwikkelen tot een van de grootste stations van Nederland.

Opgave 7 – Leefomgeving: De Noord/Zuidlijn

bron 19

Noord/Zuidlijn in Amsterdam

De Noord/Zuidlijn (lijn 52), met een lengte van 9,7 kilometer, is de nieuwste lijn van de Amsterdamse metro. In Amsterdam-Noord ligt de lijn boven de grond, maar de overige 7,1 kilometer van het traject liggen ondergronds. De bouw startte in 2003 en omvatte behalve de aanleg van de metrotunnel ook de bouw van zes nieuwe stations. Na veel vertragingen werd de lijn op 22 juli 2018 in gebruik genomen.

Amsterdam, metrolijnen en treinverbindingen

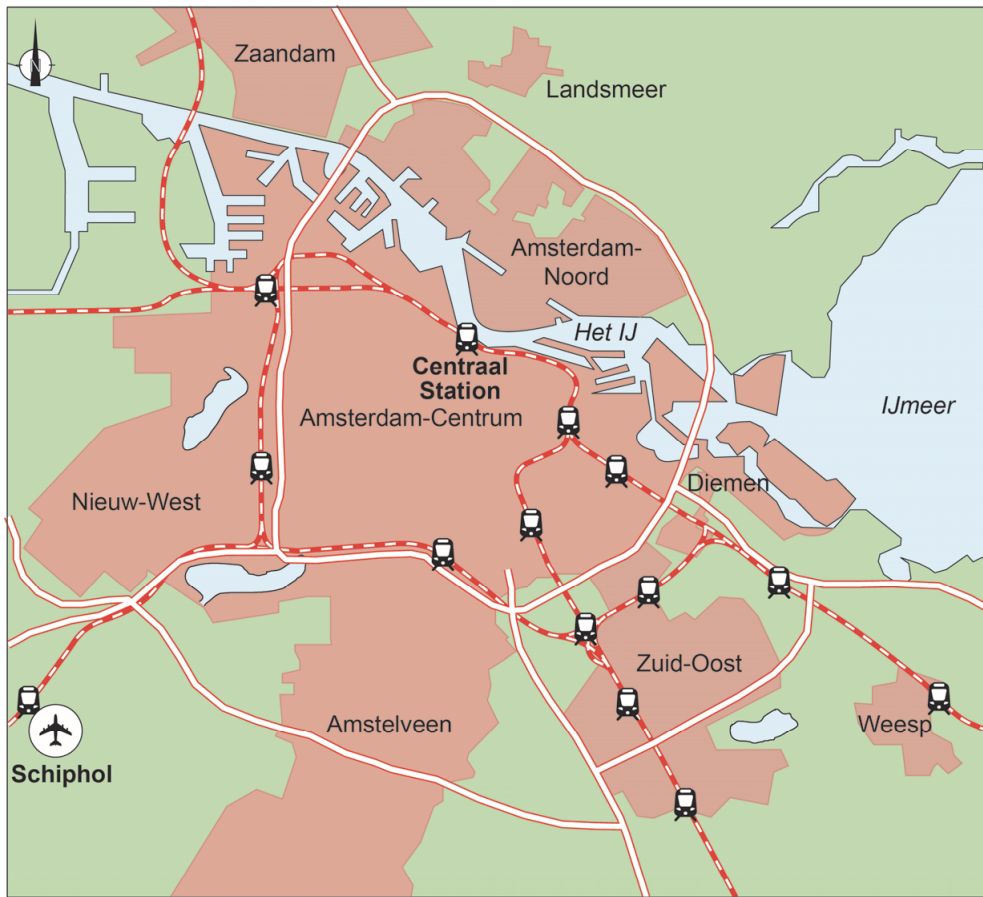


Legenda:



- | | | |
|---------------|----------------------------------|-------------------------------------|
| ○ halte metro | metrolijnen | — 53 — Centraal Station-Gaasperplas |
| ○ station NS | — 50 — Isolatorweg-Gein | — 54 — Centraal Station-Gein |
| — spoorlijn | — 51 — Centraal Station-Westwijk | |
| | — 52 — Noord-Zuid | |

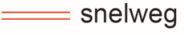

bron 20

Overzichtskaart Amsterdam



Legenda:

 treinstation
 spoorlijn

 snelweg
 bebouwing

 vliegveld

0 1,5 3 km

bron 21

Metrostation Amsterdam-Noord



Bronvermelding

Een opsomming van de in dit examen gebruikte bronnen, zoals teksten en afbeeldingen, is te vinden in het bij dit examen behorende correctievoorschrift, dat na afloop van het examen wordt gepubliceerd.